



T.C.
MİLLÎ EĞİTİM BAKANLIĞI
ÖLÇME, DEĞERLENDİRME VE SINAV HİZMETLERİ GENEL MÜDÜRLÜĞÜ

SINAVLA ÖĞRENCİ ALACAK ORTAÖĞRETİM KURUMLARINA İLİŞKİN MERKEZİ SINAV

SÖZEL BÖLÜM



Adı ve Soyadı :
Sınıfı / Şubesi :
Öğrenci Numarası :

DERS ADI	SORU SAYISI	TOPLAM SORU SAYISI	SINAV SÜRESİ (DAKİKA)
TÜRKÇE	20	50	75
T.C. İNKILAP TARİHİ VE ATATÜRKÇÜLÜK	10		
DİN KÜLTÜRÜ VE AHLAK BİLGİSİ	10		
YABANCI DİL (İNGİLİZCE)	10		

02 HAZİRAN 2018

Saat : 09.30

ÖĞRENCİLERİN DİKKATİNE!

1. Sınıf öğrenci yoklama listesinde belirtilen sınıfta ve sıra numarasında oturunuz.
2. Cevap kâğıdındaki kimlik bilgilerinin doğruluğunu kontrol ediniz. Bilgiler size ait değilse veya cevap kâğıdı kullanılmayacak durumdaysa sınav görevlilerine bildiriniz.
3. Kitapçık türünü cevap kâğıdındaki ilgili alana kodlayınız.
4. Cevap kâğıdı üzerindeki kodlamaları kurşun kalemle yapınız.

**SINAV BAŞLAMADAN ÖNCE
KİTAPÇIĞIN ARKA KAPAĞINDAKİ
UYARILARI MUTLAKA OKUYUNUZ.**

SÖZEL BÖLÜM 2018

TÜRKÇE

1. Bu testte 20 soru vardır.
2. Cevaplarınızı, cevap kâğıdına işaretleyiniz.

1. Okuru olmayan bir ülkede dergi çıkartmak, suya yazı yazmak gibidir. Tutku olmasa ne kadar da imkânsız bir iş. Bu, kitap eleştirisi üzerine çıkan bir dergiye hele... Malum, özellikle genç okurların yönelimi daha çok edebiyat ve şiir dergilerine olurken eleştiri dergileri maalesef rafların arkasında kalıyor.

Bu metinde altı çizili sözlerle anlatılmak istenenler aşağıdakilerin hangisinde sırasıyla verilmiştir?

- A) büyük çaba gerektirmek – satış amacı gütmek
- B) kalıcı olmaya çalışmak – ilgi çekmemek
- C) boş yere uğraşmak – yeterince tercih edilmemek
- D) sıkıntılara göğüs germek – köklü bir geçmişe sahip olmak

2. Eğer yere uzanmış, hareketsiz, sessiz bir geyik yavrusu görürseniz endişelenmeniz gereken bir durum yoktur çünkü mutlaka annesi yakınlarında olmalı.

Bu cümledeki anlatım bozukluğunu gidermek için aşağıdaki değişikliklerden hangisi yapılmalıdır?

- A) “yakınlarında olmalı” sözü yerine “yakınlardadır” kelimesi getirilmeli.
- B) “endişelenmeniz” kelimesi yerine “endişe duymanız” ifadesi getirilmeli.
- C) “sessiz” kelimesi cümleden atılmalı.
- D) “uzanmış” kelimesi yerine “yatmış” kelimesi getirilmeli.

3. Son yıllarda toplumumuzun görsel sanatlar sevgisinde bir kıvılcık görülmüyor. Her sanat dalı yaşama açılan pencerelerden biridir. Pencereleri hepten kapanmış binada ömür geçirmeye tahammül edenler, ruh çölünde yaşıyor demektir. Çölden dışarı adım atanlar, yaşadıkları yerlerin duvarlarına resim asmaya, heykelle ilgilenmeye, fotoğraf çekmeye başladılar. Bu, övgüye değer!

Bu metinde geçen “Pencereleri hepten kapanmış binada ömür geçirmek” **sözünüle anlatılmak istenen aşağıdakilerden hangisidir?**

- A) Çevresindekilerle iletişime kapalı olmak
B) Sanattan yoksun bir hayat sürdürmek
C) Hayata farklı açılardan bakmamak
D) Tek bir sanat dalına yoğunlaşmak

4. (I) Japonya, uzay çöplerini temizlemek için ürettiği metalik örgü ağını Uluslararası Uzay İstasyonu'na ulaştırdı. (II) 700 metrelik bu devasa ağ, bir Japon balık ağı üreticisi tarafından tasarlandı. (III) Tıpkı bir balık ağı gibi uzaya salınıp gezegenimizin çevresini büyük uzay çöplerinden temizleyecek. (IV) Metal ağ ile yapılacak denemelerin başarılı olması durumunda aynı prensiple çalışan küçük robot araçlar üretilecek.

Bu metinde numaralanmış cümlelerin hangisinde koşul anlamı vardır?

- A) I. B) II. C) III. D) IV.

5, 6, 7 ve 8. soruları aşağıdaki metne göre cevaplayınız.

Teknolojik cihazları hayatımızın her sahasında görmek mümkün. Ancak teknolojiyi bilinçsiz kullanmaktan en fazla zararı yeni nesil görüyor. Çünkü doğdukları andan itibaren akıllı cihazlar onların ellerine “elektronik emzik” niyetiyle veriliyor. Bu susturucu emzikle başlayan tanışma ileride teknoloji bağımlılığına dönüşüyor. Bu bağımlılığa dikkat çekmek için “Teknolojisiz Bir Gün” adlı sosyal sorumluluk projesi başlatıldı. Projenin çıkış noktası şöyle açıklanıyor: Teknoloji, yemek gibi bir ihtiyaç lakin yemeğin fazlasının obeziteye yol açması gibi teknolojinin fazlası da “teknoloji bağımlılığına” yol açıyor. Ekran bağımlılığı erkeklerde mobil oyun, bayanlarda sosyal medyayı kontrol etme isteğiyle ortaya çıkıyor. Ortaöğretim çağındaki bir çocuk yılda 1000 saatini okulda geçirirken 1500 saatini TV ve bilgisayar başında geçiriyor. Gençler her gün zamanlarının 229 dakikasını cep telefonu kullanarak öldürüyor. Türkiye’de bir kişi günde ortalama 6 saat TV izlerken kitap okumaya yalnızca 1 dakika ayırıyor. Bütün bunlara çözüm olarak da haftada bir gün “teknoloji diyeti” tavsiye ediliyor.

Kadın, erkek, yaşlı, genç farklı kişilere “Teknolojik cihazlar olmadan, bir gününüzü nasıl geçirdiniz?” sorusuna en fazla verilen cevap “Kitap okurum.” oluyor. Diğer cevaplar ise “Çocuklarımla vakit geçiririm, oyun oynarım, yürüyüş yaparım, resim çizerim, yeni yerler keşfederim, kütüphaneye giderim...” şeklinde sıralanıyor.

Eğer siz de teknolojiyi haddinden fazla kullanıyorsanız teknoloji diyeti yaparak sevdiğinizlere vakit ayırıp neler kaçırdığınızı fark edebilirsiniz.

5. Bu metnin dil ve anlatımıyla ilgili aşağıda verilenlerden hangisi yanlıştır?

- A) Yazar, düşüncelerini sorular yoluyla anlatmıştır.
- B) Karşılaştırmadan yararlanılmıştır.
- C) Öznel ifadelerle yer verilmiştir.
- D) Düşünce, sayısal verilerle kanıtlanmaya çalışılmıştır.

7. Metnin son cümlesinin ifade ettiği anlam aşağıdakilerden hangisidir?

- A) Eleştiri
- B) Öneri
- C) Varsayım
- D) Ön yargı

6. Bu metinde asıl anlatılmak istenen aşağıdakilerden hangisidir?

- A) İnsan, zamanını iyi değerlendirmelidir.
- B) Teknoloji bağımlılığı projelerle önlenmelidir.
- C) Bağımlılık yapan şeylerden uzak durulmalıdır.
- D) Teknoloji ölçülü kullanılmalıdır.

8. Aşağıdakilerden hangisi bu metindeki altı çizili cümlenin bir özelliği değildir?

- A) Eylem cümlesi
- B) Olumlu cümle
- C) İçinde fiilimsi bulunan cümle
- D) Kurallı cümle

9. (I) İstanbul'un üstünde ne tür tarihî yapıların olduğu az çok bilinir ama altında ne var pek bilinmez. (II) Yerin altındaki yapılardan biri olan sarnıçlar yüzyıllarca kentin su ihtiyacının önemli bir kısmını karşılamış. (III) Yağmurlardan süzülen veya kentin kilometrelerce ötesinden su kanallarıyla getirilen sular buralarda depolanmış. (IV) Sarayın, büyük kiliselerin, askerî kışlaların, soylulara ait konakların su ihtiyaçları buralardan karşılanılmış.

Bu metinde numaralanmış cümlelerin hangisinden sonra "Böyle önemli yapıların su ihtiyacını karşılayan sarnıçların en meşhuru Yerebatan Sarnıcı'dır." **cümlesi getirilirse metindeki düşünce akışı bozulmaz?**

- A) I. B) II. C) III. D) IV.

10. "Küçük Prens'in Güzel Hikâyesi" adlı bu nefis kitap, Antonie de Saint Exupery'nin yazdığı Küçük Prens öyküsünün tam metninin yanı sıra yayımlanmayan bir bölümünü, Küçük Prens karakterinin orijinal çizimlerini ve Küçük Prens üzerine yazılmış makaleleri içeriyor.

Aşağıdakilerden hangisi bu cümlede sözü edilen eserle ilgili kesin olarak söylenir?

- A) Kahramanın hayat hikâyesini anlattığı
B) İki bölümden oluştuğu
C) Küçük Prens'le ilgili farklı çalışmalara yer verdiği
D) Küçük Prens hakkında yapılan en kapsamlı çalışma olduğu

11. I. Mutluluğu engelleyen şeylerden biri, çok fazla mutluluk beklemektir.
II. Mutluluk öyle bir servettir ki bölüşüldükçe çoğalır.
III. Bilge ve iyi olmadıkça kimse mutlu olamaz.
IV. İnsan en azla yetindiği zaman mutludur.
- Yukarıdaki numaralanmış cümlelerden hangileri anlamca birbirine en yakındır?**

- A) I ve III. B) I ve IV.
C) II ve III. D) II ve IV.

12. 19. yüzyılın ortasından itibaren büyük şehirlerde ulaşım sorun hâline gelmeye başlayınca ülkeler toplu taşımacılığa yönelmiştir. Bunun için bulunan çözümlerden biri de raylı taşımacılık yani metrodur. Dünyanın büyük şehirlerinde faaliyete geçen metro hatlarıyla ilgili bazı bilgiler şunlardır:

- İstanbul Tünel Metrosu, Budapeşte Metrosu'ndan önce hizmete girmiştir.
- Chicago (Şikago) Metrosu'ndan önce ve sonra açılan metro hatları vardır.
- İstanbul Tünel Metrosu açıldığında sadece bir metro hattı faaliyettedir.
- Budapeşte Metrosu, Londra Metrosu'ndan sonra açılmıştır.

Bu bilgilere göre metro hatlarının hizmete girme tarihleri aşağıdakilerin hangisinde doğru verilmiştir?

	1863	1875	1892	1896
A)	Budapeşte	İstanbul Tünel	Londra	Chicago (Şikago)
B)	İstanbul Tünel	Budapeşte	Chicago (Şikago)	Londra
C)	Londra	İstanbul Tünel	Chicago (Şikago)	Budapeşte
D)	Chicago (Şikago)	Londra	İstanbul Tünel	Budapeşte

13, 14 ve 15. soruları aşağıdaki metne göre cevaplayınız.

Yaşadığımız dünyaya karşı taşıdığımız sorumlulukları fark etmemiz için en ideal zamanlar ilk çocukluk yıllarımız. Yere çöp atmama, ağaçların dallarını kırmama, çiçekleri koparmama gibi birçok şey bu dönemde edindirilir. Bunda en büyük pay kitaplara ait.

Eğitim Uzmanı Bilge Buhan Musa, geri dönüşüm üzerine çıkardığı dört yeni hikâye kitabıyla

I

çocuklara çevre bilinci kazandırmayı hedefliyor. Bilge Buhan Musa, doğanın nasıl korunabileceğini kitaplarında verdiği yöntemlerle somutlaştırıp çocukların bunu davranışa kolayca dönüştürebileceklerini

II

belirtiyor. Eğitimci yazarın yayımlanan hikâye serisi, çocukların kitaptaki kahramanlarla empati kurmalarını sağlıyor ve gezegenimize karşı sorumluluklarını yerine getirmelerine aracı oluyor. Bu hikâye

III

serisi dört farklı kitaptan oluşuyor. “Yaşlı Çınar Ağacı”nda kâğıdın, “Meraklı Yeşil Şişe”de camın, “Beyaz Plastik Bardak”ta plastiğin geri dönüşümü anlatılıyor. “Geri Kazanım Atölyesi”nde ise kullandığımız eşyalardan geri dönüşüme götmeden ne şekilde faydalanabileceğimiz dile getiriliyor.

IV

13. Bu metinden aşağıdaki yargıların hangisi çıkarılamaz?

- A) Doğayı korumada geri dönüşüm önemlidir.
- B) Kitapların, çocukların kişilik gelişiminde etkisi vardır.
- C) Olumlu davranışlar çocukken daha kolay kazandırılır.
- D) İnsanlarla sağlıklı iletişimin yolu empati kurmaktır.

14. Bu metne göre Bilge Buhan Musa'nın, kitaplarını yazma amacı aşağıdakilerden hangisidir?

- A) Çocuklara çevre bilinci aşılacak
- B) Geri dönüşümün ekonomiye katkısı hakkında bilgi vermek
- C) Ailelere çocuk eğitimi konusunda yol göstermek
- D) Kitap okuma alışkanlığı kazandırmak

15. Bu metindeki numaralanmış kelimelerden hangileri zarf-fiildir?

- A) I ve II.
- B) I ve III.
- C) II ve IV.
- D) III ve IV.

16. 1897 yılının Nisan ayı başlarında Ömer Şevki bey, oğlunu o günlerde subay çocukları için açılan Eyüp Sultan Askerî lisesinde özel bölüme yatılı olarak yerleştirir. Yeni usule göre öğretim yapılan bu okul da eğitim dili Fransızcaydı.
Bu metinde aşağıdakilerin hangisiyle ilgili bir yazım yanışı yapılmamıştır?

- A) Kişi adlarından önce ve sonra gelen unvanlar, saygı sözleri
- B) Belli bir tarih bildiren ay ve gün adları
- C) Bulunma durum eki “-da, -de”nin yazımı
- D) Kurum, kuruluş ve kurul adları

17. Aşağıdaki cümlelerin hangisinde noktalama işaretlerinin kullanımıyla ilgili bir yanlışlık yapılmıştır?

- A) Hey, Gebzeli Hasan! Bu çayların parasını kim ödeyecek?
- B) Nükhet'in en büyük korkusu, samimi olduğu ve kendisini yanlarında huzurlu hissettiği insanlardan uzun süre ayrı kalmaktı.
- C) Zeki (!) çocuk tüm parasını bir günde bitirdi, ayın geri kalanını harçlıksız geçirdi.
- D) Hep beklenmedik zamanlarda gelir, planlarını, çabalarını boşa çıkarırdı.

18. Ben Ömer Halisdemir,
Gözlerimde göremezsiniz korkuyu.
Arkamdan söylesinler şu türküyü:
Gencecik yaşında düşmüştü şehit,
Cihan görmedi böyle bir yiğit.

Ben Ömer Halisdemir,
Bin canım daha olsa
Veririm yine vatan uğruna.

Bu dizelerde aşağıdaki duygulardan hangisine yer verilmemiştir?

- A) Kahramanlık
- B) Merhamet
- C) Cesaret
- D) Vatan sevgisi

19. 1950'li yılların başında istasyon, bir mola yeri olmaktan ziyade hayatın aktığı yeri bizim kasabada. Kasabanın gençleri istasyonda buluşur, kalabalıkta kendilerini unuttururdu. Filmlerdeki gibi, gençler ilk kez burada göz göze gelirdi. İlk ayrılık burada yaşanır, askerlik veya çalışmak için büyük şehre gidenlerin ardından gözyaşı ilk kez burada dökülürdü. Ayrılığın acısı kadar buluşmanın sevinci de istasyondur. Ben de tezkere alıp gelen ağabeyimi burada beklemiştim. İki gün boyunca istasyona her gelen trende gözlerim ağabeyimi aramıştı. Nihayet ağabeyim trenden indiğinde boynuna sarılmış, dakikalarca ağlamıştım.

Bu parça aşağıdaki metin türlerinin hangisinden alınmıştır?

- A) Biyografi B) Deneme
C) Anı D) Gezi yazısı

20. I. Başınız ağrıyorsa “Kendinizi hangi konuda yargılıyorsunuz, uğraşıp baş edemediğiniz düşünceleriniz nelerdir?” sorularının cevabını bulmalısınız. Baş ağrılarının çoğu kendini acımasızca eleştirme, öz güven kayıpları ve kişinin, yaptığı her şeyi değersiz görmesiyle ilgilidir.
- II. Migren türü baş ağrısı kendine ve her şeye kızan, oldukça mükemmeliyetçi olan, kendilerine acımasızca baskı yapan kişiler tarafından yaratılır. Migrende, yoğun olarak bastırılmış kızgınlık vardır.
- III. Boyun fıtığı ve ağrıları; düşüncelerimizde esnek olmamak, yaşadığımız sorunların öteki yüzünü görememek, başka bir kişinin bakış açısını anlayamamaktan kaynaklanır.

Bu üç metinden çıkarılabilecek ortak sonuç aşağıdakilerden hangisidir?

- A) Vücuttaki ağrıların temel nedeni öfke duygusunun bastırılmasıdır.
- B) İyi bir dinlenme, stresin neden olduğu tüm hastalıklardan kurtulabileceğimiz ideal bir süreçtir.
- C) Olumsuz duygu, düşünce ve tutumlar bazı hastalıklara yol açar.
- D) Her şeyi en iyi şekilde yapma çabası vücut sağlığını tehdit eder.

T.C. İNKILAP TARİHİ VE ATATÜRKÇÜLÜK

1. Bu testte 10 soru vardır.
2. Cevaplarınızı, cevap kâğıdına işaretleyiniz.

1. Manastır Askerî İdadi yıllarında Mustafa Kemal'i en çok etkileyen olaylardan biri de 1897 Türk-Yunan Savaşı olmuştur. Bu savaşta Türk ordusu savaş meydanında zafer kazanmasına rağmen barış masasında istediğini elde edememiştir.

Bu durum Mustafa Kemal'de, Osmanlı Devleti'nde aşağıdakilerden hangisinin iyi yönetilemediği fikrini oluşturmuştur?

- A) Millî kültür çalışmalarının
- B) Millî eğitimin
- C) Ekonominin
- D) Dış politikanın

2. İlk Türkiye Büyük Millet Meclisi, millet iradesi ile yeni seçilen milletvekillerinin yanı sıra son Osmanlı Mebusan Meclisinden Anadolu'ya geçen milletvekillerinden oluşmaktaydı. Üyelerinin her biri ülkenin içinde bulunduğu eşi görülmemiş maddi ve manevi yokluklar karşısında Millî Mücadele'nin başarıya ulaşması için canla başla çalışmışlardır.

Bu bilgiye göre İlk Türkiye Büyük Millet Meclisi için aşağıdakilerden hangisi söylenemez?

- A) Millî egemenliği esas almıştır.
- B) Teslimiyetçi politikalar izlemiştir.
- C) Temeli fedakârlık esasına dayanmıştır.
- D) Demokratik yapıya sahiptir.

3. Mondros Ateşkes Antlaşması'ndan sonra Antep, Maraş ve Urfa'yı işgal eden İngilizler bir süre sonra aralarında yaptıkları paylaşım antlaşması gereği bu şehirleri Fransızlara bıraktılar. Fransızlar bölgeye girdikleri andan itibaren Ermenilerle birlikte Türklere karşı baskı ve şiddet uygulamaya başladılar. Türkler de onların bu saldırıları karşısında Kuvayımilliye birlikleri kurarak savunmaya geçtiler.

Buna göre,

- I. Osmanlı egemenliğinde bulunan Ermeniler işgalci düşmanla iş birliği yapmıştır.
- II. Mondros Ateşkes Antlaşması'ndan sonra Anadolu'daki işgal bölgeleri İtilaf Devletleri arasında el değiştirmiştir.
- III. Düşmanın baskı ve şiddet politikalarına karşı Türk halkı direniş başlatmıştır.

yargılarından hangilerine ulaşılabilir?

- A) I ve II.
- B) I ve III.
- C) II ve III.
- D) I, II ve III.

4. İzmir İktisat Kongresi'nin kapanışında konuşan Kâzım Karabekir Paşa, ülkenin içinde bulunduğu ekonomik durumu şu çarpıcı sözlerle özetlemiştir:

“... Doğduğu günden itibaren çocuklarımızın boğazına yabancı sütü dökersek, yabancı bez ve pamuklarına sarıp yine yabancı beşiğine yatırırız, ayağındaki patiğinden, başındaki mavi nazar boncuğuna ve elindeki teneke parçasına kadar yabancı malından yaparsak, Avrupa'da çakılmış dört tahtadan ibaret olan sandalyeler en ücra yerlere kadar girerse ve üstüne bir de kulaklarına, benim oğlum paşa olacak, gibi ninniler söyleyerek uyutucu telkinler yaparsak, büyüdükten sonra doğaldır ki üzerinde ve çevresinde, artarak yabancı mallar bulunacak ve paralarımız akıp gidecektir...”

Buna göre Kâzım Karabekir Paşa'nın savunduğu düşünce aşağıdakilerden hangisi olamaz?

- A) Yerli malı kullanılmalı ve teşvik edilmeli.
B) Bağımsız ve millî bir ekonomi kurulmalı.
C) Türk malları sadece Türkiye'de kullanılmalı.
D) Yerli üretim artırılmalı.

5. Cumhuriyet Dönemi'nde Türkiye'deki yükseköğretimi incelemesi ve bir reform tasarısı hazırlaması için İsviçre'den Prof. Dr. Albert Malche davet edilmişti. Albert Malche bir rapor hazırlayarak Atatürk'e sunmuştu. Malche'nin hazırladığı raporu titizlikle inceleyen Atatürk düşüncelerini şu şekilde ifade etmiştir: “Bir milleti ancak ve ancak o milletin içinden çıkanlar yükseltebilir. ... Bir yabancı âlimin fikirlerinden, görüşlerinden ve tetkiklerinden istifade edeceğimiz fakat asıl çareyi, asıl kararı kendi içimizden çıkarmak mecburiyetindeyiz.”

Atatürk bu parçada geçen sözlerle aşağıdakilerden hangisine vurgu yapmıştır?

- A) Millîliğe
B) Gelenekçiliğe
C) Uzlaşmacılığa
D) Eşitlikçiliğe

6. Türkiye İdman Cemiyetleri İttifakı ve Türkiye Millî Olimpiyat Komitesi ülkemizin 1924 Paris Olimpiyat Oyunları'na katılmasına karar vermişlerdi. Ancak her iki kurum da Türkiye'nin olimpiyatlara katılımını sağlayacak maddi güce sahip değildi. Hükûmetin de para sıkıntısı çektiği biliniyordu. Buna rağmen hükûmet Atatürk'ün direktifiyle toplanarak olimpiyatlar için gereken paranın verilmesini kararlaştırmıştı. Kararnamenin altında Bakanlar Kurulu üyeleriyle birlikte toplantıya başkanlık eden Cumhurbaşkanı Gazi Mustafa Kemal'in de imzası vardı.

Bu bilgide Atatürk'ün aşağıdakilerden hangisine önem verdiği vurgulanmıştır?

- A) Ekonomi
B) Spor
C) Sanat
D) Ordu

7. "Türk milletinin karakteri yüksektir. Türk milleti çalışkandır, Türk milleti zekidir. Çünkü Türk milleti millî birlik ve beraberlik içerisinde güçlükleri yenmesini bilmiştir."

Mustafa Kemal'in bu sözü aşağıdaki millî güç unsurlarından hangisi ile ilişkilendirilebilir?

- A) Askerî güç
B) Siyasi güç
C) Ekonomik güç
D) Sosyokültürel güç

8. Atatürk'ün benimsediği halkçılık ilkesine göre köylü, işçi, sanayici ve tüccar gibi toplumu oluşturan sınıflar birbirine üstün değil, birbirinin destekçisidir. Hukuksal açıdan ayrıcalıkları yoktur.

Bu bilgide halkçılık ilkesinin aşağıdaki kavramlardan hangisiyle ilişkisi vurgulanmıştır?

- A) Eşitlik
B) Özgürlük
C) Bağımsızlık
D) Egemenlik

9. Ölümüne de neden olan siroz hastalığı yüzünden Atatürk'ün karaciğerinde büyüme ve sertleşme vardı. Tedavisi için dinlenmesi ve perhiz yapması gerekirken devlet işleri ile ilgilenmeye devam etti. Hatay'ın bağımsızlığı için her türlü girişimde bulunabileceğini göstermek için Atatürk, Adana ve Mersin'e 1938'in Mayıs ayında yorucu bir gezi yaptı. Ankara'ya döndükten sonra hastalığı iyice ilerledi.

Atatürk'ün, hastalığına rağmen Hatay'ı kazanmak için bu kadar çaba göstermesi;

- I. inkılapçı,
- II. kararlı,
- III. vatansever

kişilik özelliklerinden hangilerine sahip olduğunu gösterir?

- A) Yalnız I.
- B) I ve II.
- C) II ve III.
- D) I, II ve III.

10. İkinci Dünya Savaşı sırasında bir milyona yakın erkek savaşa girme olasılığı nedeniyle askere alındı. Nüfusun dinamik ve aktif kısmını oluşturan bu nüfus, tarım ve sanayide iş gücü kaybı anlamına geliyordu. Ayrıca, erkek nüfusun büyük oranda silah altında olması, evlilik ve doğum oranlarını azalttı; nüfus artış hızı düştü.

Bu bilgiye göre İkinci Dünya Savaşı hangi alanlarda Türkiye'yi olumsuz etkilemiştir?

- A) Sosyal - Kültürel
- B) Ekonomik - Sosyal
- C) Siyasal - Sosyal
- D) Sanatsal - Siyasal

DİN KÜLTÜRÜ VE AHLAK BİLGİSİ

1. Bu testte 10 soru vardır.
2. Cevaplarınızı, cevap kâğıdına işaretleyiniz.

1. Halil Bey hacca gitmeyi çok istiyordu. Gerekli birikimini yaptı, tüm hazırlıklarını tamamladı ve hac başvurusunda bulundu. Bir aksilik çıkmadan hac görevini yerine getirebilmek için dua etti. Nihayet hac zamanı yaklaştı. Fakat elinde olmayan sağlık sorunları onun hacca gitmesine engel oldu. Halil Bey bu duruma çok üzülmesine rağmen bunda da bir hayır olduğunu düşünerek umutlarını bir sonraki yıla sakladı.

Bu metinden hareketle Halil Bey ile ilgili aşağıdaki yargılardan hangisine ulaşamaz?

- A) İbadet etmeye önem vermektedir.
- B) Gücünün sınırlarının bilincindedir.
- C) Tevekkül sahibi bir insandır.
- D) Hatalarını kadere yüklemektedir.

2. “Allah yolunda mallarını harcayanların örneği, yedi başak bitiren bir dane gibidir ki, her başakta yüz dane vardır. Allah dilediğine kat kat fazlasını verir...”

(Bakara suresi, 261. ayet)

Bu ayette vurgulanan düşünce aşağıdakilerden hangisidir?

- A) Yapılan iyilikler fazlasıyla karşılık bulacaktır.
- B) İnsan maddi ve manevi yönden başkalarına ihtiyaç duyar.
- C) Yardımlar, insanlar incitilmeden yapılmalıdır.
- D) Yardımlaşma insan ilişkilerinin gelişmesine katkı sağlar.

3. Enes b. Malik, Hz. Muhammed'i (sav.) şu şekilde anlatmıştır: "Resulullah bütün ashabi ile yakından ilgilenirdi. O'nun yanında herkes kendini kıymetli hissedirdi. Hediyeleşmeyi severdi. Hasta olanları ziyaret ederdi. Çocuklar ile oynardı. Kimsenin sözünü kesmez, konuşanın sözü bitmeden başını o kişiden çevirmezdi."

Bu metinde Hz. Muhammed'in (sav.) aşağıdaki özelliklerinden hangisine vurgu yapılmıştır?

- A) Bilgiye önem vermesine
B) İnsanlara değer vermesine
C) Güvenilir bir insan olmasına
D) Sabırlı ve cesaretli olmasına

4. Bir din görevlisi, kötü alışkanlıkları bulunan çevresindeki gençlerle ilgilenerek onların bağımlılıktan kurtulmalarına yardımcı olmuştur. Bağımlılık düzeyi yüksek olanları tedaviye yönlendirmiştir. Okulu bırakmış olanlardan bazılarının ise eğitim hayatına dönmelerini sağlamıştır. Aileleriyle problem yaşayan gençlerin velileri ile iletişime geçerek bu süreçte çocuklarına destek olmalarını istemiştir. Ayrıca gençleri sosyal aktivitelere yönlendirerek topluma kazandırılmalarında etkili olmuştur.

Din görevlisinin bu davranışı, aşağıdaki hadislerden hangisinin mesajına örnek oluşturmaktadır?

- A) Hiçbir baba evladına güzel ahlaktan daha üstün bir miras bırakmamıştır.
B) Ana babanın çocuklara olan vazifeleri onlara yüzmeyi, ok atmayı öğretmeleri ve helâl yiyecekler temin etmeleridir.
C) Sizden biriniz bir kötülük gördüğünde onu eliyle düzeltsin, buna gücü yetmiyorsa diliyle düzeltsin.
D) Allah'a ve ahiret gününe inanan kişi, akrabaları ile ilişkisini sürdürsün.

5. I. İbadetin nasıl yapılacağı
II. Nesnelerin sertliği veya yumuşaklığı
III. Ahiret hayatının nasıl olacağı
IV. Bütünün parçasından büyük olduğu

Bu bilgilerden hangilerine sadece vahiy yoluyla ulaşılabilir?

- A) I ve III. B) I ve IV.
C) II ve III. D) II ve IV.

6. Haccın farzlarından biri de iki parça kumaştan oluşan ve hacıların örtündükleri ihramdır. Anladığım kadarıyla her insanın kökeninin aynı olduğu gerçeğinin hatırlanması ve herkesin eşit olduğunun zihinde tutulması için giyiliyor. Belki de böylece insanlığın eşitlik konusundaki ulaşılmaz düşü gerçekleşiyor. Bana göre bu, ihramın en önemli anlamıdır.

Bu metinde ihramın hangi yönü vurgulanmaktadır?

- A) İnsanlara sabrı öğretmesi
B) İnsanları hayra yönlendirmesi
C) Allah'a teslimiyetin bir sembolü olması
D) Ayırıştırıcı durumları ortadan kaldırması

7. Din, insanlık tarihi boyunca daima var olmuş bir olgudur. Kutsal kitaplar, bilimsel araştırmalar ve arkeolojik kazılar tarihin her döneminde dinin var olduğunu ortaya koymuştur. İnsanın yeme, içme, dinlenme, eğlenme gibi bedensel ihtiyaçları olduğu kadar sevme, sevilme, güvenme, sığınma ve inanma gibi ruhsal ihtiyaçları da vardır. İnsan kendinden güçlü, yüce bir varlığa inanma ve ona sığınma ihtiyacı içinde yaratılmıştır.

Bu parçada aşağıdaki sorulardan hangisinin cevabı yoktur?

- A) Din, evrensel midir?
B) Dinin emirleri nelerdir?
C) Din, insan için bir ihtiyaç mıdır?
D) Dinin tarihî bir olgu olduğunun delilleri nelerdir?

8. Geçirdiği kaza sonucu hastaneye kaldırılıp yoğun bakıma alınan ve Rus olduğu tahmin edilen felçli gence, Gülsüm Kabadayı adlı bir vatandaş sahip çıktı. Bu sahipsiz gencin ölümüne kadar geçen yaklaşık on yıllık sürede bakımını üstlendi. Gülsüm Kabadayı, çıktığı bir televizyon programında Rus muhabirin: “Bu gencin bakımı için gerekli gücü nereden alıyorsunuz?” sorusuna: “Allah’ımdan, devletimden, doktorlarımdan ve tüm Türk annelerinden.” diyerek cevap verdi.

Bu parçadan aşağıdaki sonuçlardan hangisi çıkarılamaz?

- A) Yardımlaşma, fedakârlık içeren bir davranıştır.
B) Allah inancı, iyilik duygusunu güçlendirir.
C) İyilik yapmak için zengin olmak gerekir.
D) İnsanlar başkalarının yardımına ihtiyaç duyar.

9. • “... İnsanlardan kimi var ki bilgisi, yol göstereni ve aydınlatıcı bir kitabı olmadan Allah hakkında tartışır durur.”
(Lokman suresi, 20. ayet)
- “... Onların içinde bir de ümmiler var ki Kitab’ı bilmezler, bütün bildikleri birtakım kuruntulardır. Onlar sadece zanda bulunurlar.”
(Bakara suresi, 78. ayet)

Aşağıdakilerden hangisi bu ayetlerde eleştirilen davranışlardan değildir?

- A) Bilgi sahibi olmadan hüküm vermek
B) Allah hakkında bilgisizce konuşmak
C) Delile dayanmadan bir düşüncüyü ileri sürmek
D) Kendi fikirlerini önemsiz görmek

10. Güçlü kimse, güreşte rakibini yenen değil öfkeleniği zaman kendine hâkim olabilen kimsedir.

Bu hadiste öfke ile ilgili aşağıdakilerden hangisi vurgulanmaktadır?

- A) Kontrol altına alınması gerektiği
B) İnsanın doğasında olduğu
C) İlişkileri olumsuz etkilediği
D) Sağlığa zarar verdiği

YABANCI DİL (İNGİLİZCE)

1. Bu testte 10 soru vardır.
2. Cevaplarınızı, cevap kâğıdına işaretleyiniz.

1 - 4: For these questions, choose the best option to fill in the blanks.

1.



Jordan

My cousin, Mary, feels worried if she is offline even for a few hours. I think she - - - -.

- A) is a real Internet addict
- B) hates social networking sites
- C) gets bored when she uses the Net
- D) dislikes spending long hours on the Net

2. Kevin : What type of cities do you like most, historical or modern?

Kate : Historical cities are my favourite because - - - -.

- A) I don't find them exciting
- B) their architecture is fascinating
- C) they are not impressive enough
- D) modern cities are more interesting

3. Mark : I am going to see my sister in the afternoon. Would you like to come with me?

Sarah : Why not? - - - -?

Mark : In front of the cinema. We want to watch a movie together.

- A) Who will you go out with
- B) What are you going to buy
- C) What time will you go there
- D) Where are you going to meet

4. Erica : Hi, Laura. How are things?

Laura : I feel terrible because Paul has had a bad accident. He has been in the hospital for three days.

Erica : I am sorry to hear that! - - - -

Laura : Thanks for your good wishes.


- A) Do you need any help?
- B) I read the news on the Net.
- C) What's wrong with him?
- D) I hope he gets better soon.

5. Carla loves wearing trendy clothes, so she spends a lot of money on them.

Which place would she prefer to visit?



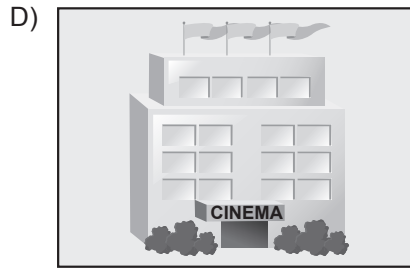
Amusement Park



Space Museum



Shopping Centre



Cinema

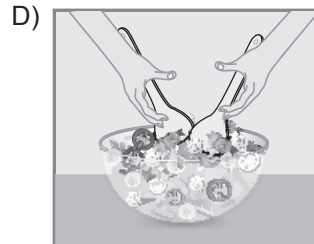
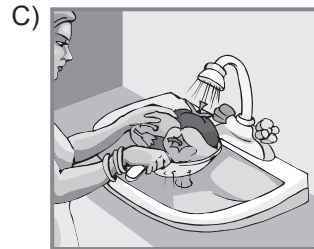

- 6.

TOMATO SALAD

- Wash some tomatoes, onions and parsley.
- Cut the vegetables into small pieces.
- Put the vegetables in a bowl and mix them.
- Add some olive oil.

Enjoy it!

Which picture shows the last step of the recipe?



7. Sam always prefers doing activities with his friends outside.

Which picture shows the activity that Sam prefers doing?

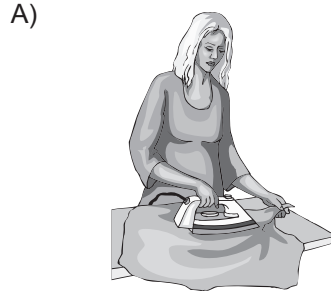


- 8.

Jane's to-do list

- ♦ do the laundry
- ♦ make the bed
- ♦ take out the garbage
- ♦ dust the furniture

Which picture shows a chore in Jane's to-do list?



Answer the questions (9-10) according to the passage below.

LARRY'S BLOG | HOME | ABOUT | GALLERY |

SEARCH

MY TRIP TO PARIS

Hi friends! Welcome to my blog. You know I was in Paris last weekend. On the first day of my trip, I visited the Louvre Museum. I even took a photo of Mona Lisa's painting. On Sunday, I visited the Eiffel Tower. Watching Paris from the top of the Eiffel Tower was very exciting for me. Wait for my new trips to new places. Until then, bye!

9. Larry tells us about - - - - .

- A) his next flight to Paris
- B) taking photos from the Eiffel Tower
- C) the history of the Louvre Museum
- D) some well-known places in Paris

10. Larry - - - - .

- A) spent a week in Paris
- B) saw Mona Lisa's painting
- C) took a photo of the Eiffel Tower
- D) visited the Louvre Museum on Sunday

TEST BİTTİ.
CEVAPLARINIZI KONTROL EDİNİZ.

SINAV BAŞLAMADAN AŞAĞIDAKİ UYARILARI MUTLAKA OKUYUNUZ!

1. Öğrenciler, sınav kurallarına ve salon görevlilerinin tüm uyarılarına uymak zorundadırlar.
2. Sınav başladıktan sonra öğrencilerin salon görevlileri ve birbirleri ile konuşmaları; kalem, silgi vb. şeyleri istemeleri yasaktır.
3. Cevap kâğıdınızı silinmeyen bir kalemle imzalayınız.
4. Sınav sırasında çanta, cep telefonu, saat, kablosuz iletişim sağlayan cihazlar ve kulaklık, kolye, küpe, bilezik, yüzük, broş ve benzeri eşyalar ile her türlü elektronik ve/veya mekanik cihazları yanınızda bulundurmuyunuz. Bu araçları kullanmanız ve kopya çekmeye teşebbüs etmeniz hâlinde sınavınız geçersiz sayılacaktır.
5. Soru kitapçığının sayfalarını görevlilerin uyarıları doğrultusunda kontrol ediniz, baskı hatası var ise değiştirilmesini sağlayınız.
6. Cevaplamaya istediğiniz sorudan başlayabilirsiniz.
7. Soru kitapçığının içindeki boş alanları çözümleriniz için kullanabilirsiniz.
8. Cevabını bilmediğiniz sorular üzerinde fazla zaman kaybetmeden diğer sorulara geçiniz. Zamanınız kalırsa bu sorulara daha sonra dönebilirsiniz.
9. Soru kitapçığı üzerinde yapıp cevap kâğıdına işaretlenmeyen cevaplar değerlendirmeye alınmayacaktır.
10. Cevaplarınızı, cevap kâğıdındaki ilgili soru numarasını dikkate alarak yuvarlağın dışına taşımadan kurşun kalemle kodlayınız.
11. Değiştirmek istediğiniz bir cevabı, yumuşak silgiyle cevap kâğıdını yıpratmadan temizce siliniz ve yeni cevabınızı kodlayınız.
12. Cevap kâğıdınızı sınav süresince hiçbir öğrencinin göremeyeceği şekilde önünüzde bulundurunuz.
13. Sınavınızın değerlendirilmesi aşamasında, toplu kopya tespiti veya başka adayın sınav evrakını kullanmanız durumunda sınavınız geçersiz sayılacaktır.
14. Sağlık sorunu dışında dışarı çıkılmayacak, zorunlu durumlarda adaya yedek gözetmen eşlik edecektir.
15. Soruları ve sorulara verdiğiniz cevapları kaydetmeyiniz, hiçbir şekilde dışarı çıkarmayınız.
16. Sınav bitiminde, soru kitapçığı ve cevap kâğıdını salon görevlilerine teslim ediniz.
17. Sınav evraklarını teslim etmeyenlerin sınavı geçersiz sayılacaktır.
18. Puanlama : Her bir ders testine ait ham puan; ilgili teste ait doğru cevap sayısından yanlış cevap sayısının üçte biri çıkarılarak hesaplanacaktır.

SINAV GÖREVLİLERİNCE SINAV BAŞLAMADAN ÖNCE ÖĞRENCİLERE YAPILACAK SON UYARILAR

- Soracağınız bir şey varsa şimdi sorunuz, sınav başladıktan sonra sorularınıza cevap verilmeyecektir.
- Başlama zilini bekleyiniz.

Hepinize başarılar dileriz.

(Sınav görevlisi başlama ve bitiş saatini tahtaya yazacaktır.)

**02.06.2018 TARİHİNDE YAPILAN SINAVLA ÖĞRENCİ ALACAK ORTAÖĞRETİM
KURUMLARINA İLİŞKİN MERKEZİ SINAV “SÖZEL BÖLÜM”
“A” KİTAPÇIĞI CEVAP ANAHTARI**

TÜRKÇE	T.C. İNKILAP TARİHİ VE ATATÜRKÇÜLÜK	DİN KÜLTÜRÜ VE AHLAK BİLGİSİ	YABANCI DİL (İNGİLİZCE)
1. C	1. D	1. D	1. A
2. A	2. B	2. A	2. B
3. B	3. D	3. B	3. D
4. D	4. C	4. C	4. D
5. A	5. A	5. A	5. C
6. D	6. B	6. D	6. A
7. B	7. D	7. B	7. C
8. A	8. A	8. C	8. B
9. D	9. C	9. D	9. D
10. C	10. B	10. A	10. B
11. B			
12. C			
13. D			
14. A			
15. C			
16. B			
17. D			
18. B			
19. C			
20. C			



T.C.

MİLLÎ EĞİTİM BAKANLIĞI

ÖLÇME, DEĞERLENDİRME VE SINAV HİZMETLERİ GENEL MÜDÜRLÜĞÜ

SINAVLA ÖĞRENCİ ALACAK ORTAÖĞRETİM KURUMLARINA İLİŞKİN MERKEZİ SINAV

SAYISAL BÖLÜM

A

KİTAPÇIK TÜRÜ

Adı ve Soyadı :

Sınıfı / Şubesi :

Öğrenci Numarası :

DERS ADI	SORU SAYISI	TOPLAM SORU SAYISI	SINAV SÜRESİ (DAKİKA)
MATEMATİK	20	40	60
FEN BİLİMLERİ	20		

02 HAZİRAN 2018

Saat : 11.30

ÖĞRENCİLERİN DİKKATİNE!

1. Sınıf öğrenci yoklama listesinde belirtilen sınıfta ve sıra numarasında oturunuz.
2. Cevap kâğıdındaki kimlik bilgilerinin doğruluğunu kontrol ediniz. Bilgiler size ait değilse veya cevap kâğıdı kullanılmayacak durumdaysa sınav görevlilerine bildirin.
3. Kitapçık türünü cevap kâğıdındaki ilgili alana kodlayınız.
4. Cevap kâğıdı üzerindeki kodlamaları kurşun kalemle yapınız.

**SINAV BAŞLAMADAN ÖNCE
KİTAPÇIĞIN ARKA KAPAĞINDAKİ
UYARILARI MUTLAKA OKUYUNUZ.**

SAYISAL BÖLÜM 2018

MATEMATİK

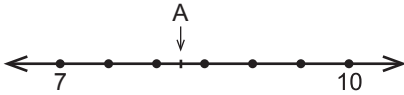
1. Bu testte 20 soru vardır.
2. Cevaplarınızı, cevap kâğıdına işaretleyiniz.

1. Kenarlarının uzunlukları 6 cm ve 8 cm olan bir dikdörtgene benzer olacak şekilde, kenar uzunlukları santimetre cinsinden doğal sayı olan bir dikdörtgen çizilecektir.

Çizilecek bu dikdörtgenin alanı 48 santimetre-kareden büyük olacağına göre en az kaç santimetre-karedir?

- A) 96 B) 108 C) 144 D) 192

2.



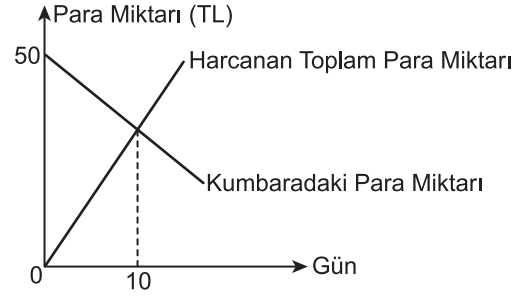
Yukarıdaki sayı doğrusunda 7 ile 10'a karşılık gelen noktaların arası 6 eş parçaya ayrılmıştır.

Buna göre A noktasına karşılık gelen sayı aşağıdakilerden hangisi olabilir?

- A) $\sqrt{94}$ B) $\sqrt{88}$ C) $\sqrt{79}$ D) $\sqrt{68}$

3. Ahmet her gün kumbarasından aynı miktarda para olarak harcıyor. Ahmet'in kumbarasındaki para miktarı ve harcadığı toplam para miktarını gösteren doğrusal grafik aşağıda verilmiştir.

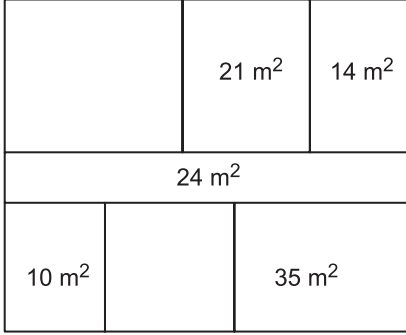
Grafik: Kumbarada Bulunan ve Harcanan Toplam Para Miktarı



Grafiğe göre Ahmet'in kumbarasındaki para kaçınıcı günde biter?

- A) 20 B) 25 C) 30 D) 35

4.



Yukarıda her bir bölümü dikdörtgen şeklinde olan dikdörtgen biçimindeki kat planı üzerinde bazı bölümlerin alanları verilmiştir.

Bu dikdörtgenlerin her birinin kenar uzunlukları metre cinsinden birer doğal sayı olduğuna göre alanı verilmeyen bölümlerin alanları toplamı en az kaç metrekaredir?

- A) 36 B) 54 C) 64 D) 76

5. 21 000 m² lik bir arsa ortaklar arasında paylaşılacaktır. Paylaşım için arsanın tamamı 250 m², 500 m² ve 1000 m² lik bölümlere ayrılıyor. Toplam bölüm sayısı ortakların sayısına eşittir. Her bir bölüm numaralandırılıyor ve bu numaralar özdeş kartların üzerine yazılarak boş bir torbaya atılıyor. Arsanın ortakları arasında çekilecek kura ile bu bölümlerin sahipleri belirlenecektir.

Bu kurada torbadan çekilecek ilk kartın üzerinde yazan numaranın; alanı 250 m², 500 m² ve 1000 m² olan bölümlerden birine ait olma olasılıkları eşit olduğuna göre bu arsanın kaç ortağı vardır?

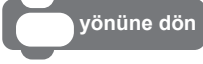
- A) 24 B) 36 C) 48 D) 60


6. Altan ve Can, defterlerine kenar uzunlukları santimetre cinsinden doğal sayı olan birer kare çiziyorlar. Altan'ın çizdiği karenin alanı kenar uzunlukları 7 cm ve 9 cm olan bir dikdörtgenin alanından büyük, Can'ın çizdiği karenin alanı ise bu dikdörtgenin alanından küçüktür.

Buna göre Altan ile Can'ın çizdiği karelerin alanları arasındaki fark en az kaç santimetrekaredir?

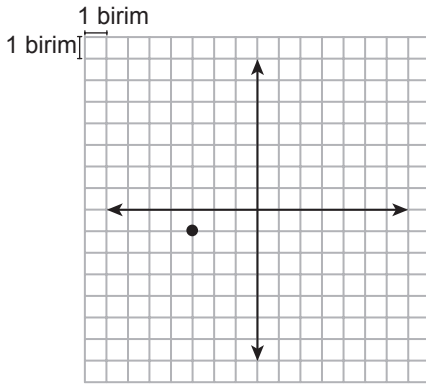
- A) 8 B) 15 C) 32 D) 39

7. Etkileşimli çalışmalar oluşturulabilecek bir programlama dilinde istenen hareketler tanımlı blokların uygun şekilde yerleştirilmesiyle elde edilmektedir. Bu programlama dilinde bulunan bazı bloklar ve tanımları aşağıda verilmiştir.

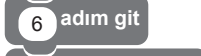


 yönüne dön → Karakterin hangi yönde hareket edeceğini belirler.
(0: yukarı, 90: sağ, 180: aşağı, -90: sol)

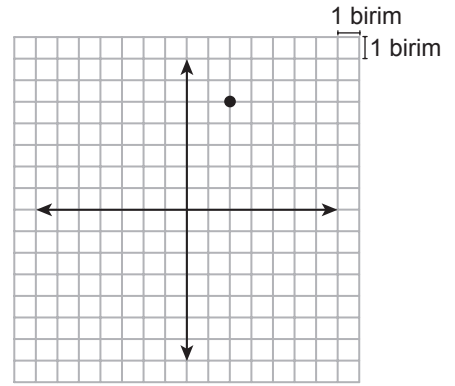
 adım git → Karakteri belirtilen birim kadar hareket ettirir.

Örnek:



1. şekil



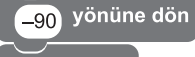

 yönüne dön
 adım git
 yönüne dön
 adım git


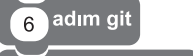
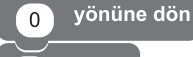



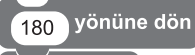
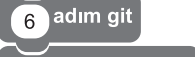
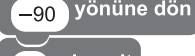

2. şekil


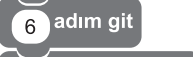
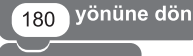

Kareli kâğıtta verilen 1. şekildeki $(-3, -1)$ noktasına yukarıdaki bloklarla belirtilen hareketler yukarıdan aşağıya doğru uygulandığında 2. şekildeki $(2, 5)$ noktası elde edilmiştir.

Buna göre $K(-1, 5)$ noktasına aşağıdaki hareketlerden hangisi uygulanırsa $L(-4, -1)$ noktası elde edilir?

A)  yönüne dön
 adım git
 yönüne dön
 adım git

B)  yönüne dön
 adım git
 yönüne dön
 adım git

C)  yönüne dön
 adım git
 yönüne dön
 adım git

D)  yönüne dön
 adım git
 yönüne dön
 adım git

8. Bir kenarının uzunluğu 10 m olan kare şeklindeki bir bahçenin sadece köşelerinde birer sulama sistemi vardır. Her bir sulama sistemi, bulunduğu köşeye uzaklığı en fazla 4 m olan kısma kadar sulama yapabilmektedir. Bu bahçenin sulama yapılamayan kısmında tabanı kare şeklinde olan bir çardak bulunmaktadır. Bu çardağın tabanının köşegeni ile bahçenin köşegeni çakışıktır.

Taban köşegeninin uzunluğu metre cinsinden bir doğal sayı olan bu çardağın taban alanı en fazla kaç metrekaredir?

- A) 18 B) 48 C) 52 D) 72

9. $0,00013 \times 10^a$ ifadesinin değeri 1000'den büyüktür.

Buna göre a'nın alabileceği en küçük tam sayı değeri kaçtır?

- A) 8 B) 7 C) 6 D) 5

10. Aşağıdaki tabloda bir lokantada satılan ve her gramında eşit kalori bulunan yemeklerin kütle ve kalorileri verilmiştir.

Tablo: Yemeklerin 100 Gramındaki Kalori Miktarları

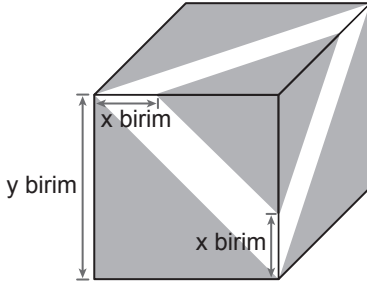
Yemek	Kalori
Çorba	45
Pilav	72
Nohut	40

Lokantadaki yemekler her bir tabakta 100 gram yemek olacak şekilde satılmaktadır.

Bu lokantadan toplam 538 kalori değerinde 10 tabak yemek sipariş verildiğinde kaç tabak nohut sipariş verilmiş olur?

- A) 2 B) 3 C) 4 D) 5

11.



Küp şeklindeki kutunun tüm yüzlerine şekildeki gibi eşit büyüklükte şeritler yapıştırılıyor ve şeritler dışında kalan üçgen biçimindeki bölgeler boyanıyor.

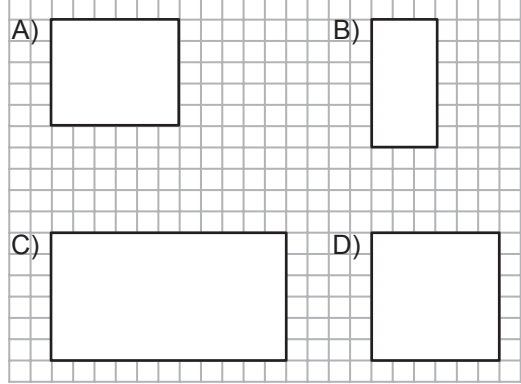
Buna göre, boyanan bölgenin alanını birimkare cinsinden gösteren cebirsel ifade aşağıdakilerden hangisidir?

- A) $6y^2 - 6xy + 3x^2$
B) $3y^2 - 6xy + 6x^2$
C) $6y^2 - 6xy - 3x^2$
D) $3y^2 - 6xy - 6x^2$

12.

Kareli kâğıtta verilen aşağıdaki dikdörtgenlerden üçü aynı üçgen dik prizmaya ait yüzlerdir.

Buna göre hangisi bu üçgen prizmanın bir yüzü olamaz?



ÖLÇME, DEĞERLENDİRME VE SINAV HİZMETLERİ GENEL MÜDÜRLÜĞÜ (ÖDSGM)

13.


Aşağıdakilerden hangisi

$$3x^2 - 6xy + 3y^2$$

cebirsal ifadesinin çarpanlarından biridir?

- A) $3x$ B) $y - x$
C) $x + y$ D) $3y^2$

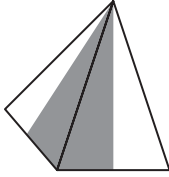
14.



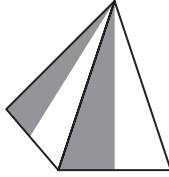
Beyaz kartondan yapılmış bir kare dik piramidin dış yüzünün bir kısmı griye boyanıyor. Bu kare dik piramidin açılımı yapıldığında dış yüzü yukarıdaki gibi görünüyor.

Buna göre aşağıdakilerden hangisi bu piramidin görünülerinden biri olamaz?

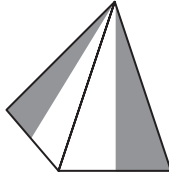
A)



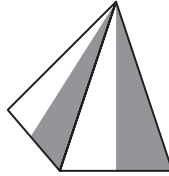
B)



C)



D)



15. İki farklı yüzme kursuna ait ücretler aşağıdaki tabloda verilmiştir.

Tablo: Kursların Ücretleri

Kurslar	Kayıt Ücreti (TL)	Aylık Ücret (TL)
1. Kurs	310	40
2. Kurs	130	55

Yüzme kursuna katılan bir kişi bir defalık kayıt ücreti ve devam ettiği her ay için aylık ücret ödemektedir.

Tabloda ücretleri verilen kurslardan birine katılmak isteyen bir kişinin en az kaç ay kursa devam etmesi durumunda 1. kursa katılması daha ekonomik olur?

A) 8

B) 9

C) 13

D) 14

16. Bir telefon şirketi müşterilerine fatura ödemelerinde iki indirim seçeneği sunmaktadır.

1. seçenek: Fatura tutarında %10 indirim
2. seçenek: Fatura tutarında 4 lira indirim

1. seçeneği tercih eden bir müşteri 2. seçeneği tercih etmiş olsaydı 3 lira daha fazla ödeme yapacaktı.

Buna göre bu müşterinin fatura tutarı kaç liradır?

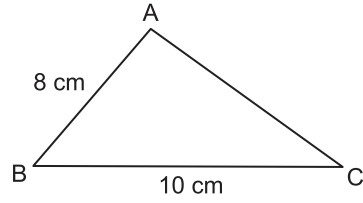
- A) 10 B) 30 C) 50 D) 70

17. Alanı 118 m^2 olan bir evin dikdörtgen biçimindeki odaları ve salonu dışındaki bölümlerinin toplam alanı 34 m^2 dir. Salonun alanı, metre-kare cinsinden bir tamkare sayıdır ve odaların alanları toplamından küçüktür.

Bu salonun kısa kenarının uzunluğu $\sqrt{18}$ m olduğuna göre uzun kenarının uzunluğu en fazla kaç metredir?

- A) $7\sqrt{2}$ B) $6\sqrt{2}$ C) $4\sqrt{2}$ D) $3\sqrt{2}$

18.



ABC üçgeninde $m(\widehat{BAC}) > m(\widehat{ABC})$, $|AB| = 8 \text{ cm}$ ve $|BC| = 10 \text{ cm}$ 'dir.

Buna göre $|AC|$ 'nin santimetre cinsinden alabileceği kaç farklı tam sayı değeri vardır?

- A) 5 B) 6 C) 7 D) 8

19. Bir kargo şirketi gönderilen kargonun kilogram cinsinden kütlesi ile desimetreküp cinsinden hacmini hesaplıyor ve hangisine göre kargo ücreti fazla ise o ücreti alıyor. Bu kargo şirketine ait ücret tarifesi Tablo 1 ve Tablo 2'de verilmiştir.

Tablo 1: Kütlelerine Göre Kargo Ücreti

Kütle (x kg)	Ücret (TL)
$0 < x \leq 3$	5
$3 < x \leq 6$	6,50
$6 < x \leq 10$	8

Tablo 2: Hacimlerine Göre Kargo Ücreti

Hacim (y dm ³)	Ücret (TL)
$0 < y \leq 9$	5,50
$9 < y \leq 18$	7
$18 < y \leq 30$	9

Buse bu kargo şirketi ile Tablo 3'te yarıçaplarının uzunlukları, yükseklikleri ve kütleleri verilen dik dairesel silindir şeklindeki kargoları yollamıştır.

Tablo 3: Kargolara Ait Bilgiler

Kargo	Yarıçapının Uzunluğu (cm)	Yüksekliği (cm)	Kütlesi (kg)
1. kargo	12	20	4
2. kargo	15	18	6

Buna göre Buse bu kargolar için kaç lira ödeme yapmıştır? (π yerine 3 alınız.)

- A) 12 B) 12,50 C) 13 D) 13,50

20. 400 metrelik düz bir yarış pistine başlangıç noktasına uzaklıkları metre cinsinden 2'nin pozitif tam sayı kuvvetleri olacak şekilde yerleştirilebilecek en fazla sayıda engel yerleştiriliyor. Bu pistte 8 atletin yarıştığı bir engelli koşusunda yarışmacılardan biri 20. metrede, bir diğeri 50. metrede yarışı bırakıyor.

Diğer yarışmacılar yarışı tamamladığına göre yarış bittiğinde atletlerin her birinin üzerinden atladığı engel sayılarının toplamı kaçtır?

- A) 57 B) 63 C) 64 D) 72

**MATEMATİK TESTİ BİTTİ.
FEN BİLİMLERİ TESTİNE GEÇİNİZ.**

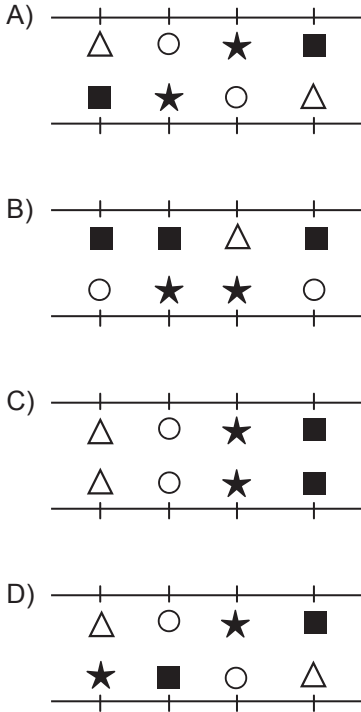
FEN BİLİMLERİ

1. Bu testte 20 soru vardır.
2. Cevaplarınızı, cevap kâğıdına işaretleyiniz.

1. Bir öğretmen, öğrencilerinden Δ , \blacksquare , \circ , \star şekillerini kullanarak DNA modeli oluşturmalarını istiyor.

Buna göre öğrencilerin oluşturduğu aşağıdaki DNA modellerinden hangisi doğrudur?

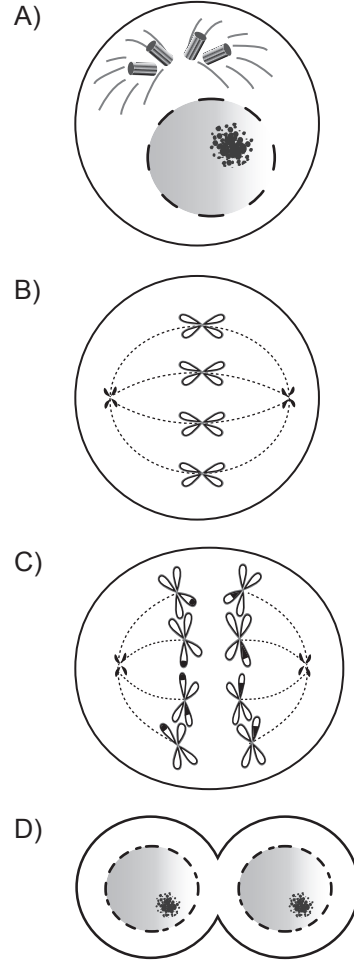
(Zincirler üzerindeki şekiller nükleotitleri göstermektedir.)



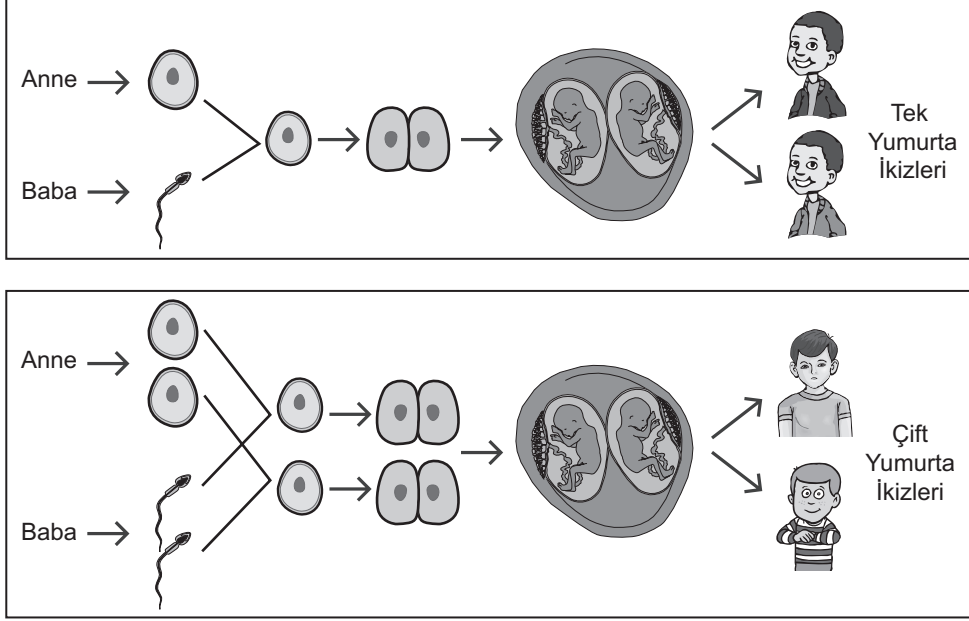
2. Bir hayvanda;

- yaraların iyileşmesi,
- embriyonun gelişmesi

olaylarının gerçekleşmesi sırasında aşağıdaki hücre bölünmesi evrelerinden hangisi görülmez?



3. Uzay yolculuklarının insanlar üzerindeki etkilerini incelemek için deneysel bir araştırma gerçekleştirilmiştir. Bu araştırmada oluşum süreçleri şemada verilen tek yumurta ve çift yumurta ikizlerinin özellikleri karşılaştırılarak incelenmiştir.



Araştırma grubu yaptıkları inceleme sonunda, uzaydaki çevresel faktörlerin etkileri üzerine güçlü bilimsel sonuçlar elde etmek için tek yumurta ikizlerini tercih etmiştir. Araştırma öncesi bu ikizlerin tüm tıbbi testleri yapılmış, her ikisinin de sağlıklı olduğu tespit edilmiştir. İkizlerden biri Dünya'da kalırken diğeri 340 gün uzayda Dünya yörüngesinde kalmıştır. Araştırma sonunda, ikizlerin kan testleri ve DNA analizleri incelenmiştir.

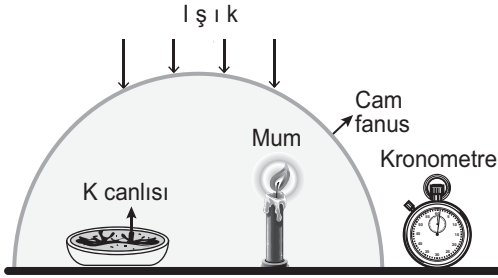
Bu araştırmada bilim insanlarının deney için çift yumurta ikizleri yerine tek yumurta ikizlerini tercih etme nedeni aşağıdakilerden hangisidir?

- A) Aynı anne babanın çocukları olmaları
- B) Hücre çekirdeklerindeki genetik yapının aynı olması
- C) Cinsiyetlerinin ve yaşlarının aynı olması
- D) Kromozom sayılarının aynı olması

4. Klorofil taşıyan K canlısı ile ilgili şu hipotez öne sürülmüştür:

Hipotez: K canlısı bulunduğu ortama oksijen verir.


Bu hipotezin doğru olup olmadığını anlamak amacıyla yapılacak bir deneyde mumun yanma süresi ölçülecektir.



Bu hipotezin doğru olup olmadığını anlamak için şekildeki düzeneğin yeterliliği ile ilgili aşağıdakilerden hangisi doğrudur?

- A) Bu düzenek kesinlikle yeterlidir çünkü mum vardır.
 B) Bu düzenek kesinlikle yeterlidir çünkü K canlısı vardır.
 C) Yeterli değildir çünkü bu düzeneğin yanında, K canlısının olmadığı ve diğer özellikleri aynı olan başka bir düzeneğin de bulunması gerekir.
 D) Yeterli değildir çünkü bu düzeneğin yanında, mumun olmadığı ve diğer özellikleri aynı olan başka bir düzeneğin de olması gerekir.

5. Uzmanlar, deniz kenarındaki bir kentin kıyı şeridinin şekilde gösterildiği gibi gelecekte hep sular altında kalacağını ileri sürmektedir.



Günümüzde



Gelecekte

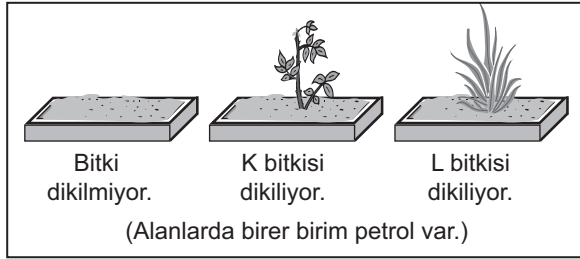
Uzmanların ileri sürdüğü bu değişime aşağıdakilerden hangisinin gerçekleşmesi yol açabilir?

- A) Ormanların miktarı artırılarak karbondioksit dengesinin sağlanması
 B) Buzul miktarının artarak daha fazla alanı kaplaması
 C) Ozon tabakasının incelmesinde etkili olan gazların kullanımının azaltılması
 D) Fosil yakıtların enerji kaynağı olarak kullanımının artırılması

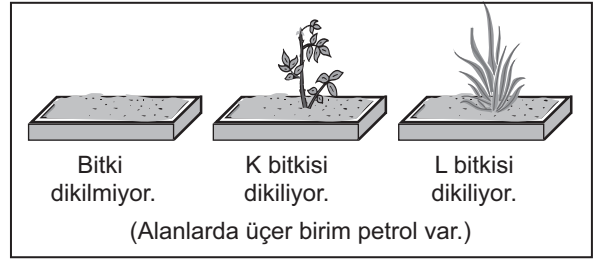
6. Bilim insanları, taşıma sırasında dökülen petrolün toprakta oluşturduğu kirliliğin K ve L bitkileri kullanılarak azaltılabileceğini göstermek amacıyla bir proje başlatıyorlar. Bilim insanları, dökülen petrolü bitkiler kullanarak ortamdaki petrolü uzaklaştırmayı başarılırsa bu bitkilerin genlerini daha hızlı büyüyen bitkilere aktaracaklar. Elde ettikleri genetiği değiştirilmiş bu bitkileri de petrolü topraktan daha hızlı bir şekilde uzaklaştırmak için kullanacaklar.

Bu proje kapsamında aşağıdaki işlemler gerçekleştiriliyor.

- Altı adet özdeş toprak alan seçilip bunlardan iki grup oluşturuluyor.
- Petrol birinci gruptaki üç özdeş toprak alana birer birim, ikinci gruptaki üç özdeş toprak alana da üçer birim karıştırılıyor.

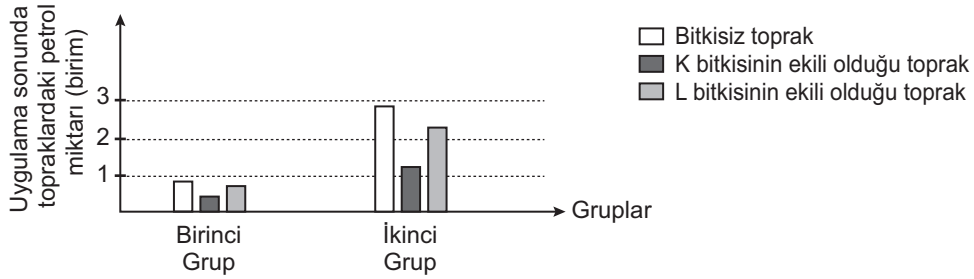


Birinci Grup



İkinci Grup

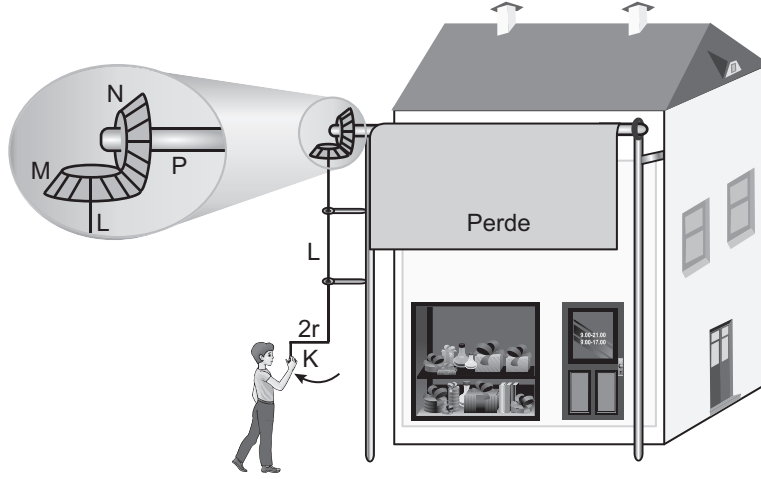
Uygulama sonunda, topraklarda kalan bu petrolün miktarları grafikteki gibidir.



Buna göre aşağıdaki ifadelerden hangisi söylenebilir?

- K ve L bitkileri, petrolün ortamdaki uzaklaştırılmasında hiç etkili olmadığı için daha hızlı büyüyen bitkiler seçilmelidir.
- K bitkisinin petrolün ortamdaki uzaklaştırılmasından sorumlu olan genlerinin hızlı büyüyen diğer bitkilere aktarılması daha uygundur.
- L bitkisinin petrolün ortamdaki uzaklaştırılmasından sorumlu olan genlerinin hızlı büyüyen diğer bitkilere aktarılması daha uygundur.
- L bitkisi çok hızlı büyüdüğü için petrolün ortamdaki uzaklaştırılmasında K bitkisinden daha etkili olmuştur.

7. Ahmet, çarşıda bir dükkân önündeki görevlinin şekildeki gibi K kolunu çevirdiğinde perdenin, P çubuğuna sarılarak yukarı hareket ettiğini görüyor.
- Görevli $2r$ uzunluğundaki K kolunu çevirdiğinde L çubuğu dönmektedir.
 - L çubuğu döndüğünde r yarıçaplı M dişlisini döndürmektedir.
 - M dişlisi kendisiyle özdeş olan N dişlisini döndürmektedir.
 - N dişlisi döndüğünde P çubuğunu da döndürerek perdenin aşağıya veya yukarıya doğru hareket etmesini sağlamaktadır.



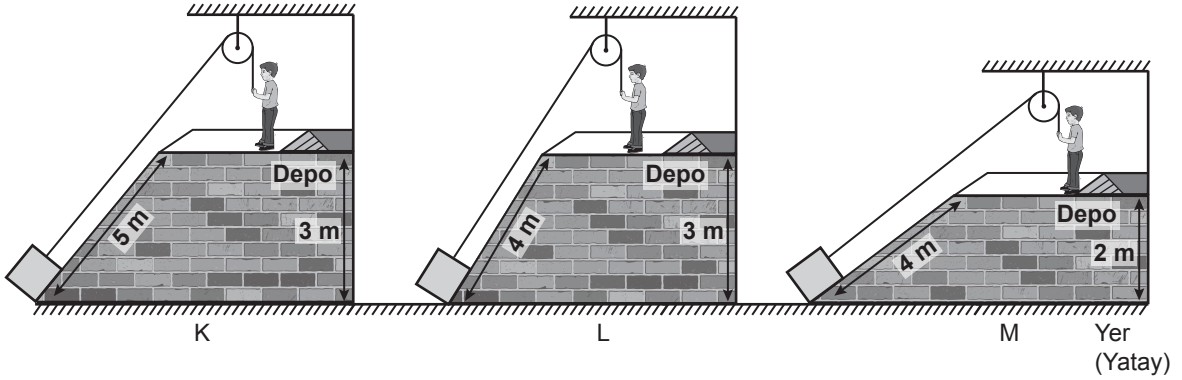
Basit makinelerin bulunduğu bu sistemde,

- I. K - L
- II. L - M
- III. M - N
- IV. N - P

kisimlerinden hangileri kuvvet kazancı sağlar?

- A) Yalnız I. B) Yalnız II. C) II ve III. D) I ve IV.

8. Özdeş kutular, özdeş sabit makaralar ve ipler kullanılarak şekildeki gibi K, L ve M sistemleri ile depolara çıkarılmaktadır.



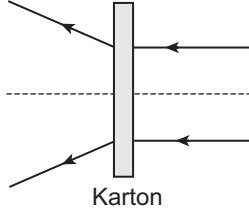
Bu sistemlerde kutular depolara aynı şekilde çekilerek çıkarılırken;

- I. Uygulanan kuvvetlerin eğik düzlemin yüksekliğine bağlı olup olmadığı,
- II. Uygulanan kuvvetlerin eğik düzlemin uzunluğuna bağlı olup olmadığı

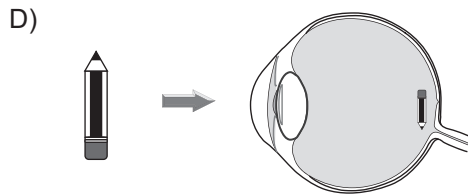
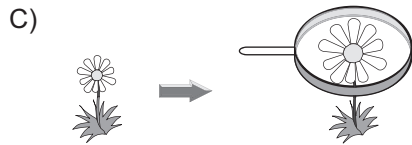
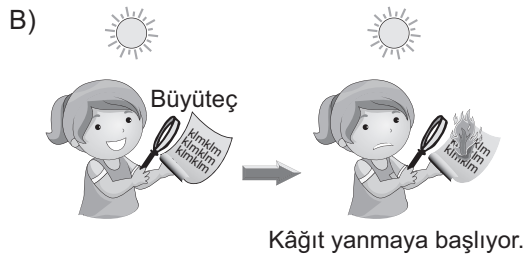
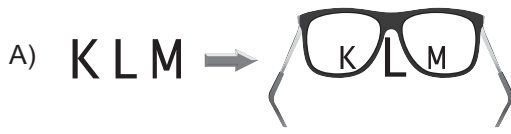
durumlarının araştırılması için hangi sistemler kullanılmalıdır? (Sürtünmeler önemsenmeyecektir.)

	I. durum	II. durum
A)	L ve M	K ve M
B)	K ve L	L ve M
C)	L ve M	K ve L
D)	K ve M	L ve M

9. Şekilde kartonun arkasına yerleştirilmiş bir mercekte kırılan ışık ışınlarının izlediği yol modellenmiştir.



Aşağıda verilen durumların hangisinde şekildeki gibi bir mercekle bulunmaktadırlar?



10. Ayşe, odada çalmakta olan radyonun sesini açtığında odanın tavanında asılı olan balonun titreşmeye başladığını fark ediyor.

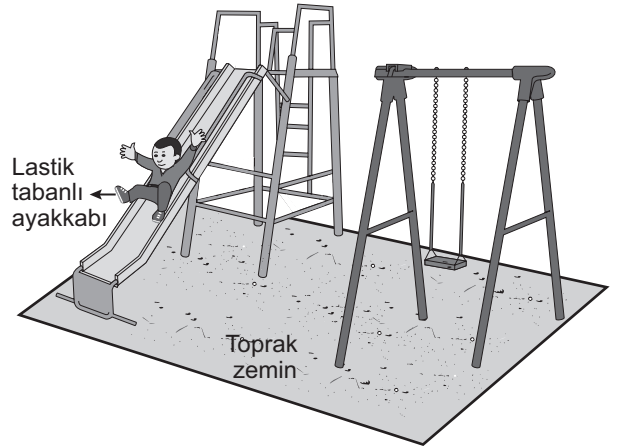
Ayşe bu olayı,

- I. Ses dalgaları enerji taşır.
- II. Sesin sürati yayıldığı ortama göre değişir.
- III. Ses enerjisi başka bir enerji türüne dönüşebilir.

yargılarından hangileri ile açıklar?

- A) I ve II. B) I ve III.
C) II ve III. D) I, II ve III.

11. Güneşli ve rüzgârsız bir günde Mehmet şekildedeki gibi, kaydırdan kayıyor. Mehmet, kaydıktan sonra annesinin eline dokunduğunda küçük kıvılcımlar ve çıtırtı sesleri oluşmuştur.



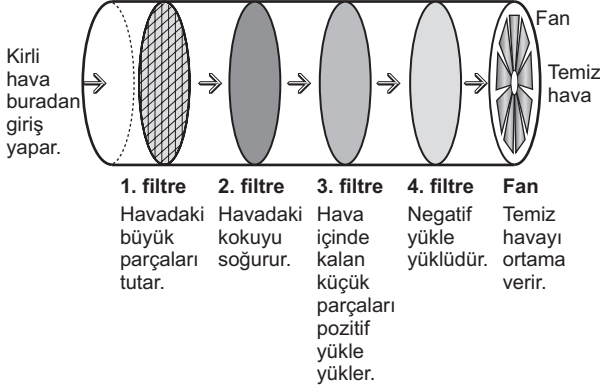
Mehmet annesinin eline dokunmadan önce;

- I. toprak zeminde bulunan tamamı demirden yapılmış salıncağın zincirlerinden tutarak sallanma,
- II. oturarak elleriyle yerdeki toprakla oynama,
- III. kaydırdan çabucak tekrar kayma

eylemlerinden hangilerini yapsaydı annesinin eline dokunduğunda küçük kıvılcımlar ve çıtırtı sesleri oluşmazdı?

- A) Yalnız III. B) I ve II.
C) I ve III. D) II ve III.

12. İş yerlerinde kullanılan hava temizleme araçlarının iç yapısı ve çalışma prensibi şekildeki gibidir.



Bu aracın yer aldığı ortamda, araçtan çıkan havanın içinde pozitif yüklü parçaların fazla sayıda yer aldığı belirleniyor.

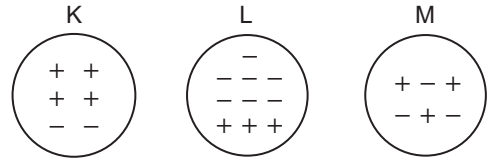
Bu durumda araçta yer alan hangi filtre yeterince çalışmamıştır?

- A) 1. filtre B) 2. filtre
C) 3. filtre D) 4. filtre

13. Başlangıçta nötr olan bir elektroskoba K, L ve M iletken küreleri sırasıyla dokundurulup şu değişimler gözleniyor:

- K küresi dokunduğunda elektroskobun yaprakları açılıyor.
- L küresi dokunduğunda elektroskobun yaprakları kapanıp sonra tekrar açılıyor.
- M küresi dokunduğunda elektroskobun yaprakları biraz kapanıyor.

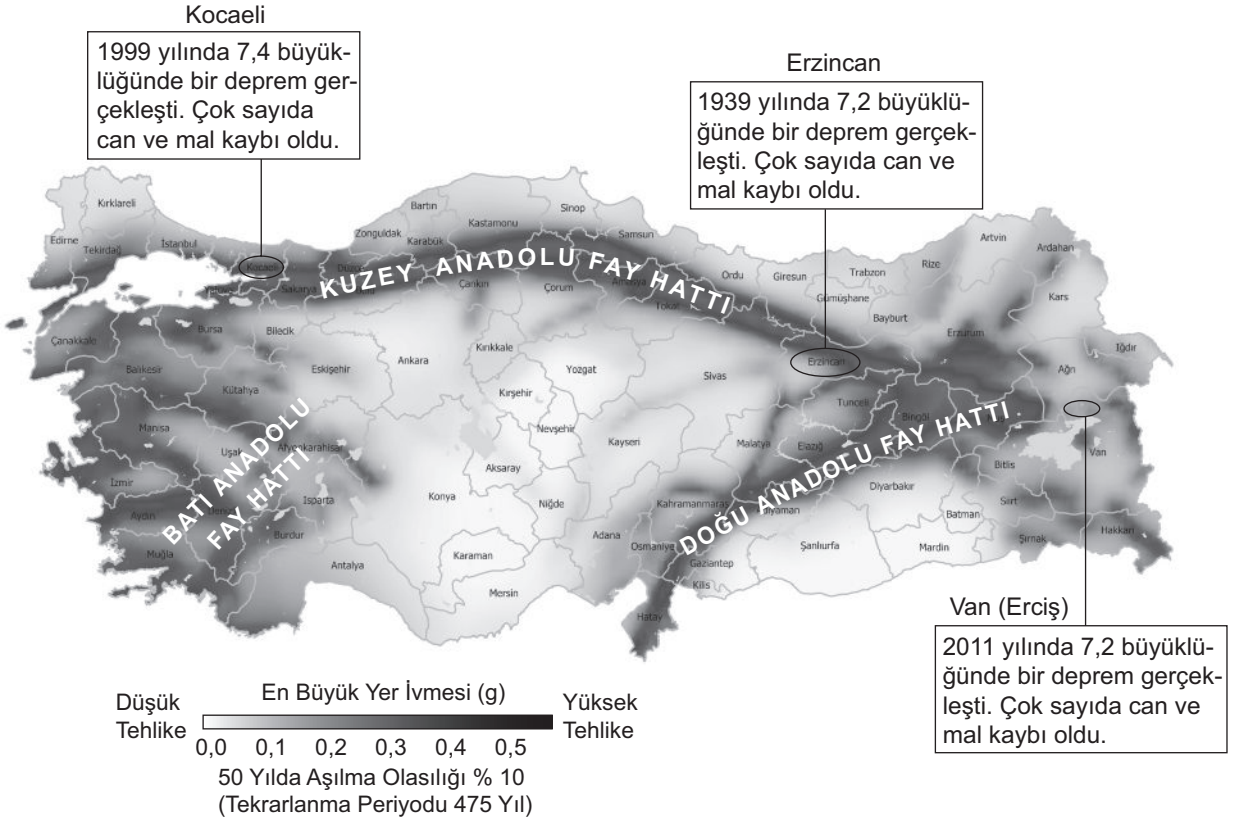
Bir öğrenci, gözlemlenen değişikliklerin gerçekleşmesi için kürelerin elektroskoba dokundurulmadan önceki yüklerini aşağıdaki gibi gösteriyor.



Bu öğrenci K, L ve M kürelerinden hangilerinin yük durumunu doğru göstermiş olabilir?

- A) Yalnız K B) Yalnız M
C) K ve L D) K, L ve M

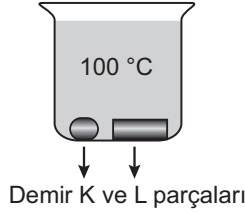
14. Ülkemizdeki üç ayrı ilde gerçekleşen depremlerle ilgili bilgiler harita üzerinde verilmiştir.



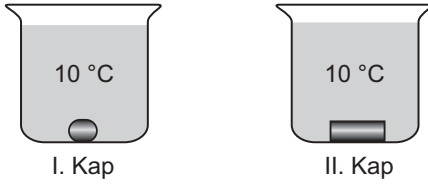
Bu bilgilere göre aşağıdakilerden hangisi söylenebilir?

- A) Fay hattı üzerinde yer alan şehirlerde deprem olma riski yüksektir.
- B) Aynı fay hattı üzerinde depremlerin oluş sırası batıdan doğuya doğrudur.
- C) Kocaeli depremi; Erzincan depreminin artçı, Van depreminin öncü depremidir.
- D) Batı Anadolu ve Doğu Anadolu fay hatları aktif olmadığından bu bölgelerde deprem olma riski yoktur.

18. Sıcaklıkları $10\text{ }^{\circ}\text{C}$ olan demir K parçası ile kütlesi K'den fazla olan demir L parçası $100\text{ }^{\circ}\text{C}$ 'taki saf suyun içerisinde şekildeki gibi bırakılıp son sıcaklıkları eşit olana kadar bekletiliyor.



Daha sonra bu demir parçaları şekildeki gibi aynı miktarda ve $10\text{ }^{\circ}\text{C}$ sıcaklığında saf su bulunan özdeş kaplara ayrı ayrı bırakılıyor.



Buna göre kaplardaki suların son sıcaklıkları kaç $^{\circ}\text{C}$ olabilir?

	I. Kap	II. Kap
A)	10	12
B)	12	14
C)	14	12
D)	12	12

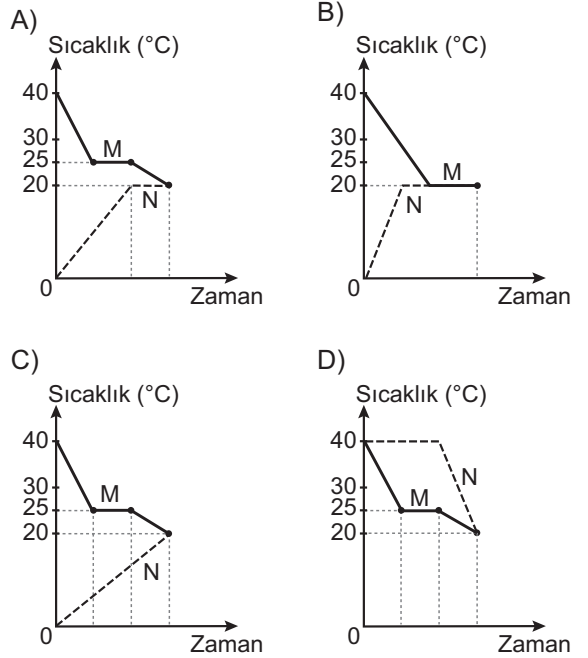
19. Saf M sıvısı ile saf N katısına ait bilgiler verilmiştir.

M sıvısı	N katısı
Başlangıç sıcaklığı $40\text{ }^{\circ}\text{C}$	Başlangıç sıcaklığı $0\text{ }^{\circ}\text{C}$
Donma noktası $25\text{ }^{\circ}\text{C}$	Erime noktası $40\text{ }^{\circ}\text{C}$

İçinde M sıvısı olan bir kaba bu sıvıda çözünmeyen N katısı bırakılıyor. Isı alışverişi tamamlandıktan sonra son sıcaklıkları $20\text{ }^{\circ}\text{C}$ oluyor.

Bu olay sırasında M ve N maddeleri arasındaki sıcaklık değişimini gösteren grafik aşağıdakilerden hangisidir?

(Isı alışverişinin sadece M ve N maddeleri arasında olduğu düşünülecektir.)



20. Günlük hayatta karşılaşılan bazı olaylar, ilkeler ile eşleştirilmiştir.

Buna göre aşağıdaki olaylardan hangisi eşleştirildiği ilke ile açıklanamaz?

<u>Olay</u>	<u>İlke</u>
A) Soğuk havalarda meyve ve sebzelerin donmaması için depolara büyük miktarlarda su konması	Su donarken çevresine ısı verir.
B) Kar yağdığında buzlanmayı önlemek için yollarda tuzlama işlemi yapılması	Tuzlu suyun donma noktası saf suyunkinden daha düşüktür.
C) Buzdolabının soğutucu sisteminde kullanılan sıvıların gaz hâline geçmesi sağlanarak buzdolabının içinin soğutulması	Sıvı maddeler buharlaşırken çevrelerinden ısı alır.
D) Sıcak bir yaz günü denizden çıkan çocuğun üşümesi	Katı maddeler erirken çevrelerinden ısı alır.

**TEST BİTTİ.
CEVAPLARINIZI KONTROL EDİNİZ.**

SINAV BAŞLAMADAN AŞAĞIDAKİ UYARILARI MUTLAKA OKUYUNUZ!

1. Öğrenciler, sınav kurallarına ve salon görevlilerinin tüm uyarılarına uymak zorundadırlar.
2. Sınav başladıktan sonra öğrencilerin salon görevlileri ve birbirleri ile konuşmaları; kalem, silgi vb. şeyleri istemeleri yasaktır.
3. Cevap kâğıdınızı silinmeyen bir kalemle imzalayınız.
4. Sınav sırasında çanta, cep telefonu, saat, kablosuz iletişim sağlayan cihazlar ve kulaklık, kolye, küpe, bilezik, yüzük, broş ve benzeri eşyalar ile her türlü elektronik ve/veya mekanik cihazları yanınızda bulundurmuyunuz. Bu araçları kullanmanız ve kopya çekmeye teşebbüs etmeniz hâlinde sınavınız geçersiz sayılacaktır.
5. Soru kitapçığının sayfalarını görevlilerin uyarıları doğrultusunda kontrol ediniz, baskı hatası var ise değiştirilmesini sağlayınız.
6. Cevaplamaya istediğiniz sorudan başlayabilirsiniz.
7. Soru kitapçığının içindeki boş alanları çözümlerinizi için kullanabilirsiniz.
8. Cevabını bilmediğiniz sorular üzerinde fazla zaman kaybetmeden diğer sorulara geçiniz. Zamanınız kalırsa bu sorulara daha sonra dönebilirsiniz.
9. Soru kitapçığı üzerinde yapıp cevap kâğıdına işaretlenmeyen cevaplar değerlendirmeye alınmayacaktır.
10. Cevaplarınızı, cevap kâğıdındaki ilgili soru numarasını dikkate alarak yuvarlağın dışına taşımadan kurşun kalemle kodlayınız.
11. Değiştirmek istediğiniz bir cevabı, yumuşak silgiyle cevap kâğıdını yıpratmadan temizce siliniz ve yeni cevabınızı kodlayınız.
12. Cevap kâğıdınızı sınav süresince hiçbir öğrencinin göremeyeceği şekilde önünüzde bulundurunuz.
13. Sınavınızın değerlendirilmesi aşamasında, toplu kopya tespiti veya başka adayın sınav evrakını kullanmanız durumunda sınavınız geçersiz sayılacaktır.
14. Sağlık sorunu dışında dışarı çıkılmayacak, zorunlu durumlarda adaya yedek gözetmen eşlik edecektir.
15. Soruları ve sorulara verdiğiniz cevapları kaydetmeyiniz, hiçbir şekilde dışarı çıkarmayınız.
16. Sınav bitiminde, soru kitapçığı ve cevap kâğıdını salon görevlilerine teslim ediniz.
17. Sınav evraklarını teslim etmeyenlerin sınavı geçersiz sayılacaktır.
18. Puanlama : Her bir ders testine ait ham puan; ilgili teste ait doğru cevap sayısından yanlış cevap sayısının üçte biri çıkarılarak hesaplanacaktır.

SINAV GÖREVLİLERİNCE SINAV BAŞLAMADAN ÖNCE ÖĞRENCİLERE YAPILACAK SON UYARILAR

- Soracağınız bir şey varsa şimdi sorunuz, sınav başladıktan sonra sorularınıza cevap verilmeyecektir.
- Başlama zilini bekleyiniz.

Hepinize başarılar dileriz.

(Sınav görevlisi başlama ve bitiş saatini tahtaya yazacaktır.)

**02.06.2018 TARİHİNDE YAPILAN SINAVLA ÖĞRENCİ ALACAK ORTAÖĞRETİM
KURUMLARINA İLİŞKİN MERKEZİ SINAV “SAYISAL BÖLÜM”
“A” KİTAPÇIĞI CEVAP ANAHTARI**

MATEMATİK

1. B
2. D
3. A
4. C
5. B
6. B
7. C
8. A
9. B
10. C
11. A
12. C
13. B
14. D
15. C
16. D
17. B
18. C
19. D
20. A

FEN BİLİMLERİ

1. A
2. C
3. B
4. C
5. D
6. B
7. D
8. C
9. A
10. B
11. B
12. D
13. D
14. A
15. B
16. A
17. C
18. B
19. C
20. D